

① 世界の中の国土, 国土の地形の特色と人々の暮らし, 国土の気候の特色と人々の暮らし

/ 100点

1 右の地図を見て, 次の問題に答えましょう。

(1) 地図中の㉞の大陸名を, 次の㉠~㉣から選びましょう。(15点) ▶p.6~7 「いろいろな国, 大陸と海洋」

- ㉠ ヨーロッパ大陸 ㉡ ユーラシア大陸
- ㉢ アフリカ大陸



(2) ㉡の国で最も大きい島を何といますか。(15点) ▶p.8~9 「日本の国土」

()

(3) 地形について, 次の文の()の中から正しいものを一つずつ選んで, それぞれ○で囲みましょう。(1つ15点) ▶p.12~13 「日本の地形」

- ・㉡の国土の中央には, 山地が連なっている(山脈 盆地)が多くあります。また, 海に面した地形である(台地 平野)もあります。

2 右の図を見て, 次の問題に答えましょう。

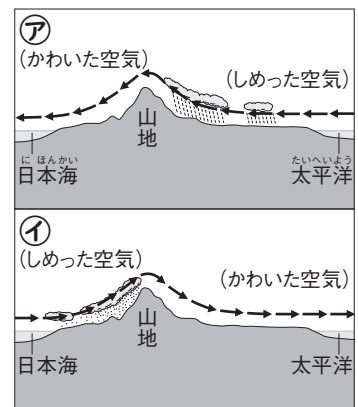
▶p.22~23 「地域でちがう気候」

(1) 図中の→のような, 季節によってふく向きが変わる風を何といますか。(10点)

()

(2) 夏の風を表しているのは㉠と㉡のどちらですか。(10点)

()



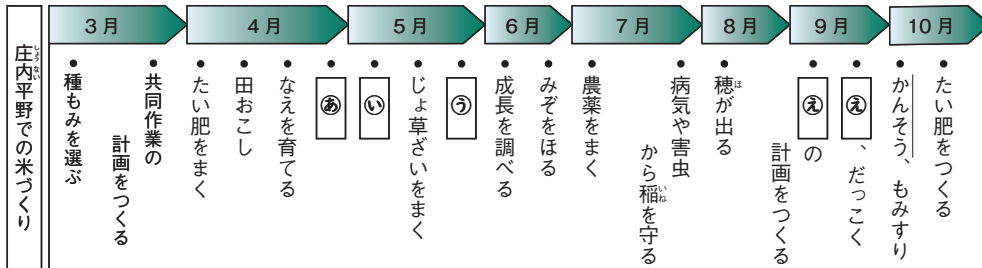
3 沖縄県の気候について, 正しいもの二つに○をつけましょう。(1つ10点) ▶p.24~25 「あたたかい土地の人々の暮らし」

- () 寒さにそなえるため, まどを二重にしている。
- () 台風が多く来るため, 伝統的な家は防風林などで囲まれている。
- () レタスなどの高原野菜を多く生産している。
- () 川から水を豊富に手に入れられるので, 稲のさいばいがさかんである。
- () 昔も今も, さとうきびのさいばいがさかんである。

② 農業と人々の暮らし, 水産業と人々の暮らし, これからの食料生産とわたしたち

/ 100点

1 次の図を見て, あとの問題に答えましょう。



(1) 図中の□にあてはまる作業を, 次のア~エからそれぞれ選びましょう。

(1問10点) ▶p.32~33 「米づくりの一年」

- ア() イ() ウ() エ()
 ⑦ 田植え ⑧ 代かき ⑨ 稲かり ⑩ 水の管理

(2) 図中のぼう線について, 米を集めてかんそうして出荷するまで保管する施設を何といいますか。(15点)

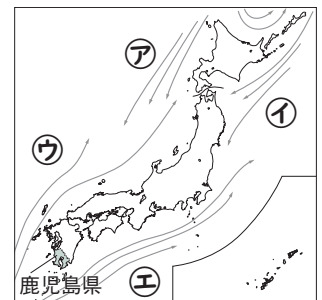
▶p.34~35 「米づくりを支える人々」

()

2 右の地図を見て, 次の問題に答えましょう。

(1) 地図中のア~エから, 黒潮[日本海流]とリマン海流をそれぞれ選びましょう。(1つ10点)

日本の近くの海流



黒潮[日本海流]() リマン海流()

(2) 次の文中の()にあてはまる言葉を書きましょう。(10点)

▶p.48~49 「育てる漁業, 水産業の課題」

()業[漁業]

・地図中の鹿児島県では, かんぱちなどを大きくなるまでいけすなどの施設で育ててからとる, ()業[漁業]がさかんです。

3 日本の食料生産の課題について, 正しいものには○を, まちがっているものには×をつけましょう。(1つ5点)

▶p.50~51 「食生活の変化と食料生産」, ▶p.52~53 「これからの食料生産」

- () 日本は食料自給率がフランスやカナダより低くなっている。
- () 食料を輸入でまかなえると, 安定して食料が手に入る。
- () 農業や漁業で働く人の数が減り, 年齢が高い人のわりあいが高くなっている。

③ さまざまな工業, 工業生産と貿易, 工業生産と工業地域

/ 100点

1 自動車の生産について, 正しいものには○を, まちがっているものには×をつけましょう。(1つ10点) ▶p.56~57 「自動車づくり」, ▶p.58~59 「自動車の部品をつくる工場, 自動車のゆくえ」


- () ようせつなど, きけんな作業はロボットが行っている。
- () 自動車の組み立てが終われば, そのまま出荷される。
- () 自動車の部品は組み立て工場ですべてがつくられる。

2 右のグラフを見て, 次の問題に答えましょう。

▶p.68~69 「日本の貿易の特色」

(1) グラフ中の□に共通してあてはまる輸出品・輸入品ともに1位の品目を, 次のア~エから選びましょう。(15点)

日本の輸出入品の上位5位の割合



(2021年)[日本国勢協会 2023/24年版]

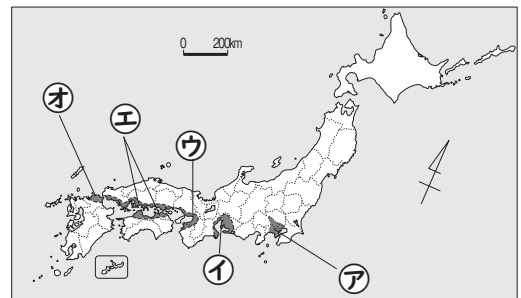
(2) 輸入品について, 正しい方に○をつけましょう。(15点)

- () 石油や液化ガスは輸入品の上位5位にふくまれている。
- () 自動車や自動車部品は輸入品の上位5位にふくまれている。

- ア 機械類
- イ 石炭
- ウ 食料品
- エ 化学製品

3 右の地図を見て, 次の問題に答えましょう。

(1) ア~オの工業地帯や工業地域のうち, 2020年の工業生産額が最も多い工業地帯はどれですか。また, その工業地帯名を何といますか。(1つ15点) ▶p.72~73 「日本の工業地域」



記号 ()
工業地帯名 () 工業地帯

(2) 次の文の()にあてはまる輸送の方法を書きましょう。(10点) ▶p.74~75 「工業製品のゆくえ」

- ()
- 原料や燃料は()を使用して運ぶため, 工業のさかんな地域が海ぞいに多い。

④ 情報化した社会とわたしたちの生活、わたしたちの生活と環境

/ 100点

1 次の問題に答えましょう。

(1) 次の文の()の中から正しいものを一つずつ選んで、それぞれ○で囲みましょう。

(1つ10点)

▶p.80~81 「情報産業とわたしたちの暮らし」

・メディアによって特ちょうはそれぞれちがいます。何かをしながら聞けて手軽に情報じょうほうを得られるのは(新聞 ラジオ)で、必要な情報けんをすぐに検さくすることができるのは(インターネット ぎっし)です。


(2) 人工知能ちのう りやくしやうの略称を、アルファベット二字で書きましょう。(15点)▶p.82~83 「情報を活用する産業」

()

2 次の問題に答えましょう。

(1) 右の絵のような土石流による災害さいがい ぶせを防ぐためにつくられた施設しせつを何とといいますか。(15点)▶p.88~89 「自然災害を防ぐ」

()



(2) 青森県あおもりと秋田県あきたにまたがる、世界遺産いざんに登録されている山地を何とといいますか。(15点)▶p.90~91 「わたしたちの生活と森林」

()山地

(3) 森林のはたらきとして正しいもの二つに○をつけましょう。(1つ10点)

▶p.90~91 「わたしたちの生活と森林」

- () 動物のすみかになる。
- () 水力発電を行う。
- () 津波つなみから人を守る。
- () 川や海を豊かゆたにする。

(4) 公害げんいんが起こった都道府県とその公害の原因をそれぞれ線で結びましょう。

(全部できて15点)

▶p.92~93 「環境を守るわたしたち」

- | | |
|--------------|-------------------------------------|
| くまもと
熊本県・ | こうざん
・ 鉱山から川へ流れ出たカドミウムが原因で起きた公害病 |
| とやま
富山県・ | ・ 有機水銀が原因で起きた公害病 |
| みえ
三重県・ | ・ 工場からのけむりが原因で起きた公害病 |