

①日本の都道府県，地図の見方，土地の様子

/ 100点

1 右の地図を見て，次の問題に答えましょう。

- (1) 北海道と岐阜県の位置を地図中のア～オからそれぞれ選びましょう。
 (1つ15点) ▶p.4～5 「都道府県と地方」

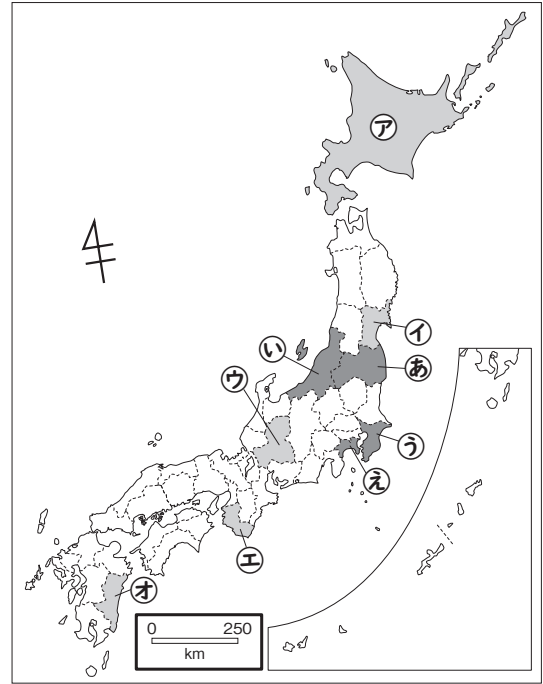
北海道 () 岐阜県 ()

- (2) 関東地方にふくまれる県を地図中のあ～えからすべて選びましょう。
 (全部正解で10点) ▶p.4～5 「都道府県と地方」

()

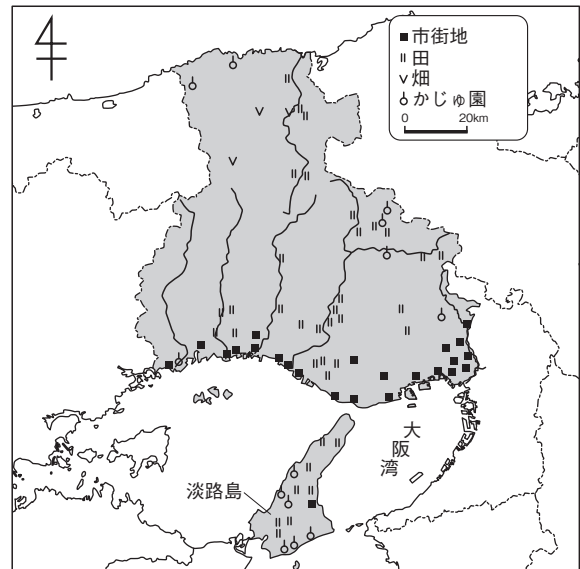
- (3) 地図中の□でかこんだ記号は何をどれだけちぢめたものをしてしていますか。正しい方に○をつけましょう。(10点) ▶p.8～9 「しゅくしやくとは」

() 実際のきより () 実際の高さ



2 右の地図は兵庫県の土地利用をしめしたものです。地図から読み取れることとして，正しいものには○を，まちがっているものには×を書きましょう。(1つ10点) ▶p.14～15 「県の地形」

- () 県の北部には，市街地が集まっている。
 () 県の南西部では，畑作がさかんである。
 () 川の周辺には，田が多くある。
 () 淡路島では，米や果物のさいばいがさかんである。
 () 大阪湾に面する地いきでは，畑作がさかんである。



②くらしと水, くらしと電気・ガス, くらしとごみ

/ 100点

1 右の絵を見て, 次の問題に答えましょう。

(1) 絵のじょう水場について, 正しいものには○, まちがっているものには×をつけましょう。

(1つ10点) ▶p.22~23 「じょう水場のはたらき」

- () 川の水を取り入れて水をきれいにするしせつである。
- () よごれた水をきれいにし、川に流すしせつである。
- () 水質をけんさしている。



(2) 水をためておくための㊦のしせつを何といいますか。 (20点)

▶p.26~27 「水げんの森」

()

2 電気やガスについて, 正しいものには○を, まちがっているものには×をつけましょう。 (1つ10点) ▶p.32~33 「電気はどこから」, ▶p.36~37 「ガスはどこから」

- () 電気は送電線で, 家庭や工場で使えるように調整される。
- () ねん料となる天然ガスは, タンカーで外国から運ばれてくる。
- () ガスもれに気づけるように, においがつけられている。

3 次の文にあてはまる取り組みを, あとの㊦~㊥からそれぞれ選びましょう。 (1問10点) ▶p.42~43 「ごみのリサイクル」

- ① 原料にもどして, ふたたび使う。
- ② 何度も使う。

① () ② ()

- ㊦ リフューズ ㊧ リサイクル ㊨ リユース ㊩ リデュース

③ 自然災害が起きたら

/ 100点

1 右の絵を見て、次の問題に答えましょう。

(1) 次の文中の()にあてはまる言葉を、あとの㉠～㉥からそれぞれ選びましょう。(1問10点)

▶ p.48～49 「さまざまな自然災害」



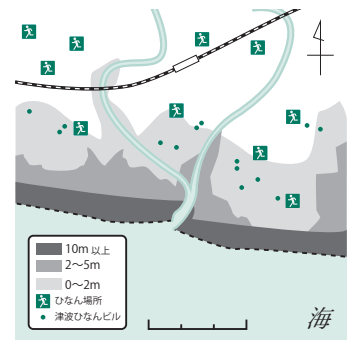
・右の絵は、(①)によって起こるおそれのある津波にそなえるため、(②)の高さをしめしたかん板です。

①() ②()

- ㉠ 地震 ㉡ ごう雨 ㉢ 水 ㉣ 土地

(2) 右の地図について、正しいものを次の㉠～㉥から2つ選びましょう。(1つ10点)

▶ p.50～51 「公助・共助・自助」



() ()

- ㉠ この地図を、地形図という。
 ㉡ この地図を、ハザードマップという。
 ㉢ この地図は、災害が起きたときにきけんな場所や、ひなんする場所をしめしている。
 ㉣ この地図は、その地いきの特産品などをしめしている。

2 次の文の取り組みは、公助、共助、自助のどれにあてはまりますか。公助なら1を、共助なら2を、自助なら3をそれぞれ数字で答えましょう。(1つ10点)

▶ p.50～51 「公助・共助・自助」、▶ p.54 「自然災害が起きたらまとめ」

- () 家族でひなん場所や、ひなん場所までのけい路をたしかめる。
 () 地いきの人々が集まって、ひなん訓練を行う。
 () 県がていぼうの整備を計画的に行う。
 () 国や県、市などが防災計画を定める。
 () 地いきの人々が防災びちく倉庫の点検を行う。
 () 家に、非常持ち出し用の水や食料品などをびちくしておく。

④ 伝統・文化と先人たち、特色のある地いき

/ 100点

1 次の文中の()にあてはまる言葉をあとの㊦～㊨からそれぞれ選
びましょう。(1問15点) ▶p.56～57 「地いきの伝統・文化」

・地いきの祭りの多くは、もともとは作物の(①)をいのるために行われ、
(②)に受けうけつがられています。

①() ②()

㊦ じょうたい ㊧ 今 ㊨ 昔 ㊩ ほう作

2 右の年表から読み取ったことをまとめた次の
文中の()にあてはまる言葉を、あとの㊦
～㊨からそれぞれ選びましょう。(1問15点)

琵琶湖疎水ができるまで

年	できごと
1881	北垣国道が京都府知事になる
1883	琵琶湖疎水をつくる計画を国に出す
1885	第一疎水の工事が始まる
1890	第一疎水が完成する
1891	水力発電所が完成する
1908	第二疎水の工事が始まる
1912	第二疎水が完成する

▶p.65 「伝統・文化と先人たちのまとめ(2)」

①() ②()

・琵琶湖疎水は、(①)が京都府知事になってから
計画を国に出した。そして、(②)の完成後、水力
発電所が完成した。

㊦ 北垣国道 ㊧ 第一疎水 ㊨ 第二疎水

3 次の問題に答えましょう。

(1) 古くから伝わる原料を生かして人から人へぎじゅつが受けつがれてきた、
多くが手づくりで行われている産業を何といいますか。(20点)

▶p.70～71 「伝統的な産業とまちづくり」

()

(2) つながりの深い都市どうしが交流を深めるために結んでいる関係の都市を
何といいますか。(20点)

▶p.74～75 「国際交流①」

()